

Основы безопасности жизнедеятельности
Муниципальный этап всероссийской олимпиады школьников
2017-2018 учебный год
2.3 Теоретические задания для обучающихся 10-11 классов

Тестовые задания

1. Уставы Вооруженных Сил Российской Федерации подразделяются на:

- а) специальные и общевойсковые;
- б) боевые и строевые;
- в) боевые и общевойсковые.

2. В результате пожара на лестничной площадке загорелась входная дверь вашей квартиры. Путь к выходу отрезан огнем. Вы:

- а) уйдете в дальнюю комнату, плотно закрыв входную дверь мокрым одеялом;
- б) попытаетесь выломать дверь и выскочить на лестничную площадку;
- в) спрячетесь в ванной комнате.

3. Регулировщик на перекрестке обращен к пешеходам боком, руки вытянуты в стороны. Вам разрешается:

- а) начать переходить дорогу;
- б) стоять;
- в) дойти до середины.

4. Пешая колонна детей может двигаться:

- а) по ходу движения транспорта, не далее 1 метра от края проезжей части;
- б) только по тротуару или пешеходной дорожке и только в сопровождении взрослых;
- в) только по левому краю дороги навстречу транспорту с обозначением красными флажками.

5. Продолжительный и очень сильный ветер, скорость которого превышает 20 м/с, – это:

- а) вьюга;
- б) шторм;
- в) ураган.

6. Какая награда была учреждена не в годы Великой Отечественной войны:

- а) «За оборону Москвы»;
- б) «За оборону Кавказа»;
- в) «За оборону Киева».

7. Частицы ионизирующего излучения, которые распространяются на небольшие расстояния: в воздухе – не более 10 см, в живой клетке – до 0,1 мм и полностью поглощаются листом бумаги называются:

- а) альфа-излучение;
- б) бета-излучение;
- в) гамма-излучение.

8. Боевым знаменем в Военно-Морском Флоте РФ является:

- а) Флаг Петра Великого;
- б) Президентский;
- в) Андреевский.

9. На кораблях Военно-Морского Флота России распространяется действие:

Основы безопасности жизнедеятельности
Муниципальный этап всероссийской олимпиады школьников
2017-2018 учебный год

- а) Морского устава;
- б) Устава Российского флота Петра I;
- в) Корабельного устава ВМФ РФ.

10. Максимально возможным по длительности срок ареста военнослужащего с содержанием на гауптвахте является:

- а) 10 суток;
- б) 15 суток;
- в) 20 суток.

11. В соответствии с Указом Президента РФ Российская армия была создана:

- а) 23 февраля 1991 года;
- б) 7 мая 1992 года;
- в) 19 декабря 1994 года.

12. Система официально принятых в государстве взглядов на подготовку к вооруженной защите и вооруженную защиту Российской Федерации – это:

- а) Конституция РФ;
- б) Военная доктрина РФ;
- в) Воинский устав.

13. Состояние межгосударственных или внутригосударственных отношений, характеризующее совокупностью факторов, способных при определенных условиях привести к возникновению военной угрозы – это:

- а) военная угроза;
- б) военный конфликт;
- в) военная опасность.

14. Какой День воинской славы отмечается 5 декабря 1941 года:

- а) День начала контрнаступления советских войск против немецко-фашистских войск в битве под Москвой;
- б) День разгрома советскими войсками немецко-фашистских войск в Сталинградской битве;
- в) День снятия блокады города Ленинграда.

15. В соответствии со статьями Уголовного Кодекса РФ склонение к употреблению наркотических веществ наказывается:

- а) лишением свободы на срок до 5 лет;
- б) лишением свободы на срок до 8 лет;
- в) лишением свободы на срок до 12 лет.

16. Заранее спланированные и организованные действия лица или группы лиц, приверженных к крайним взглядам и методам деятельности, преимущественно насильственного характера, наносящие материальный, политический или моральный ущерб личности, обществу и государству называется:

- а) религиозным терроризмом;
- б) экстремистской акцией;
- в) террористический акт.

17. Лицо, придерживающееся крайних взглядов и методов достижения социально-политических, экономических и иных целей и допускающее возможность применения насилия, - это:

- а) террорист;

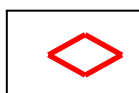
Основы безопасности жизнедеятельности
Муниципальный этап всероссийской олимпиады школьников
2017-2018 учебный год

- б) экстремист;
- в) бандит.

18. За заведомо ложное сообщение об акте терроризма в соответствии со статьями Уголовного Кодекса РФ следует наказание в виде:

- а) лишения свободы на срок до 3 лет;
- б) лишения свободы на срок до 5 лет;
- в) лишения свободы на срок до 8 лет.

19. Топографический знак



означает:

- а) танк;
- б) блиндаж;
- в) орудие.

20. Воздействие этого аварийно химически опасного вещества (АХОВ) при аварии на химически опасном объекте может вызвать отек легких:

- а) хлор;
- б) фосген;
- в) аммиак.

Задания с открытым ответом

Задание 1. Дополните фразу

Состояние, тенденции развития и условия жизнедеятельности нации, при которых обеспечивается защищенность ее жизненно важных интересов, гарантируется, несмотря на наличие и действие неблагоприятных факторов, ее выживание, свободное, независимое функционирование и процветание при сохранении своих фундаментальных ценностей и основных институтов – ...

Задание 2

Вставьте пропущенные слова в текст о ядерном оружии.

Ядерное оружие – вид оружия _____ (А) поражения взрывного действия, основанного на использовании _____ (Б) энергии, выделяющейся при цепных реакциях деления тяжелых ядер некоторых изотопов _____ (В) и _____ (Г) или в ходе реакций синтеза легких ядер (дейтерий, тритий, литий).

Задание 3

Укажите, что означают условные обозначения и знаки на карте обстановки о ЧС

4 -

ОВ -

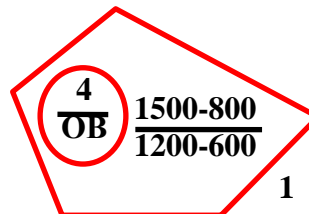
1 -

1500 -

800-НРС -

1200 -

600 -









1

Основы безопасности жизнедеятельности
Муниципальный этап всероссийской олимпиады школьников
2017-2018 учебный год

Задание 4

В зависимости от направления плоскости перелома по отношению к длинной оси кости переломы бывают нескольких видов. В соответствии с рисунком напишите вид перелома.

Задание 5

Укажите значение рекомендательных, запрещающих и ограничивающих знаков туристской маркировки:

			
1	2	3	4
			
5	6	7	8

Задание 6

Найдите на карте звездного неба Полярную звезду и укажите цифру, которой она обозначена. Опишите способы поиска Полярной звезды.

Основы безопасности жизнедеятельности
Муниципальный этап всероссийской олимпиады школьников
2017-2018 учебный год


Задание 9

Напишите признаки взрывного устройства:

Задание 10

Укажите, что означают данные разведки зоны радиоактивного заражения

- А –
- Б –
- В –
- Г –
- 60 –
- Н –
- 15.10 17.05 -



60-Н
15.10 17.05

Задание 11

В зависимости от групп пожарной опасности строительные материалы подразделяются на классы пожарной опасности. Пожарная опасность строительных, текстильных и кожаных материалов характеризуется определенными свойствами. Укажите недостающие:

Свойства пожарной опасности строительных материалов	Класс пожарной опасности строительных материалов в зависимости от групп					
	КМ0	КМ1	КМ2	КМ3	КМ4	КМ5
.....	НГ	Г1	Г1	Г2	Г2	Г4
.....	—	В1	В1	В2	В2	В3
.....	—	Д1	Д3+	Д3	Д3	Д3
.....	—	Т1	Т2	Т2	Т3	Т4
Распространение пламени по поверхности для покрытия полов	—	РП1	РП1	РП1	РП2	РП4

Задание 12

Из приведенного ниже перечня выберите и подчеркните отравляющие вещества, классификация которых основана на действии отравляющих веществ на организм человека:

- а) токсические;
- б) удушающие;
- в) отравляющие;
- г) общеядовитые;
- д) психохимические;
- е) бактериологические;

Основы безопасности жизнедеятельности
Муниципальный этап всероссийской олимпиады школьников
2017-2018 учебный год

- ж) кожно-нарывные;
- з) радиоактивные;
- и) раздражающие;
- к) нервно-паралитические.

Задание 13

Заполните таблицу знаков к правилам дорожного движения.

<i>Знак</i>	<i>Группа знаков</i>	<i>Название знака</i>
