

**Задания муниципального этапа  
всероссийской олимпиады школьников по географии 2017 год  
10 класс**

**Тестовый раунд**

*Использование атласов и других справочных изданий запрещено.*

*Время на выполнение заданий – 45 минут.*

*Всего: 20 баллов*

При выполнении заданий впишите правильный ответ (ответы) в таблицу:

1.	6.	11.	16.
2.	7.	12.	17.
3.	8.	13.	18.
4.	9.	14.	19.
5.	10.	15.	20.

1. С помощью чего можно определить количество осадков, выпадающих на острове Калимантан в январе

А) физической карты острова

В) климатической карты мира

Б) климатограммы острова

Г) карты климатических поясов мира

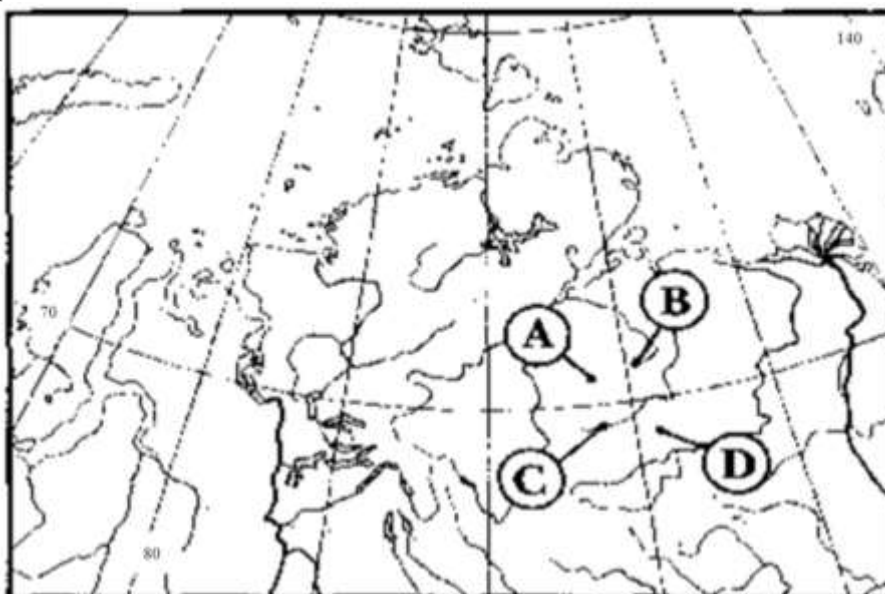
2. Какой буквой на фрагменте карты мира обозначена точка, имеющая географические координаты  $71^\circ$  с. ш. и  $111^\circ$  в. д.?

А) В

Б) С

В) А

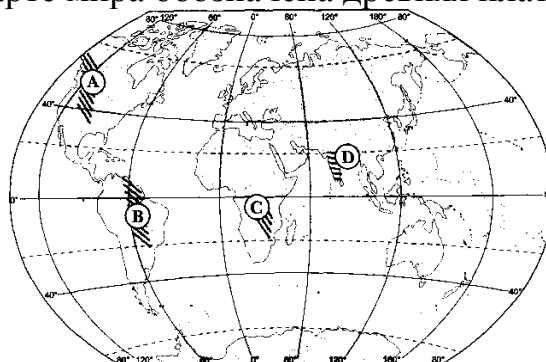
Г) D



3. 21 марта наблюдать Солнце на севере можно на территории

- А) Алжира
- В) Венесуэлы
- Б) Китая
- Г) Мозамбика

4. Какой буквой на карте мира обозначена древняя платформа?



- А) В
- В) D
- Б) С
- Г) А

5. Какое из утверждений является верным?

- А) в составе атмосферного воздуха преобладает кислород
- В) пассаты меняют свое направление на противоположное дважды в год
- Б) атмосферное давление с высотой понижается
- Г) озоновый экран позволяет ультрафиолетовому излучению достичь земной поверхности

6. Какое из утверждений, характеризующих режим выпадения осадков в субэкваториальном климатическом поясе Северного полушария, является верным?

- А) осадки выпадают равномерно в течение года
- В) влажный сезон длится с апреля по сентябрь
- Б) максимум осадков выпадает в сентябре и марте
- Г) влажный сезон длится с октября по март

7. Для какой из нижеперечисленных отраслей промышленности ключевым фактором размещения предприятий является близость потребителя

- А) гидроэлектроэнергетика
- В) производство калийных удобрений
- Б) газодобыча
- Г) производство химических волокон

8. Какой из перечисленных полуостровов омывается водами Тихого океана?

- А) Флорида
- В) Аляска
- Б) Индостан
- Г) Лабрадор

9. Соотнесите регионы России и языковые семьи основной части населения

- |                         |                        |
|-------------------------|------------------------|
| А) Республика Карелия   | 1) Алтайская           |
| Б) Республика Ингушетия | 2) Северокавказская    |
| В) Забайкальский край   | 3) Индоевропейская     |
| Г) Пермский край        | 4) Уральско-юкагирская |

10. Какой из перечисленных островов расположен в Южном полушарии?

- |             |              |
|-------------|--------------|
| А) Сардиния | В) Шри-Ланка |
| Б) Куба     | Г) Тасмания  |

11. Какой из этих городов является крупным морским портом своей страны

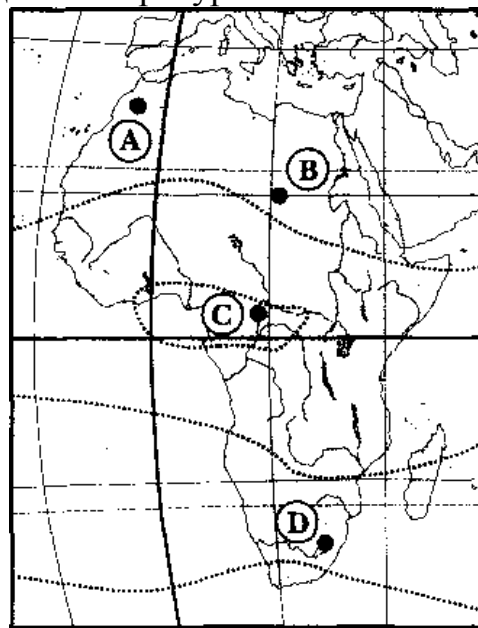
- |              |             |
|--------------|-------------|
| А) Роттердам | В) Асунсьон |
| Б) Вильнюс   | Г) Дамаск   |

12. Экспортной статьей Науру является (-ются)

- |                  |                  |
|------------------|------------------|
| А) алмазы        | В) фосфориты     |
| Б) природный газ | Г) урановые руды |

13. Какой буквой на карте Африки обозначена точка, в которой наблюдаются наибольшие суточные амплитуды температур?

- А) В  
Б) С  
В) А  
Г) D



14. Выберите страну, на территории которой расположен город с населением более 5 миллионов человек

- |            |             |
|------------|-------------|
| А) Перу    | В) Болгария |
| Б) Уругвай | Г) Лаос     |

15. В каком из этих городов России находится атомная электростанция

- |            |                     |
|------------|---------------------|
| А) Арзамас | В) Бугульма         |
| Б) Курск   | Г) Набережные Челны |

16. Характерной особенностью большинства стран Азии является
- А) многоукладный характер экономики  
В) высокий уровень жизни
- Б) высокий ВВП  
Г) этническая однородность населения
17. В какой из перечисленных стран в возрастной структуре населения доля детей наибольшая?
- А) Болгария  
В) Пакистан
- Б) Замбия  
Г) Ливан
18. Какое из утверждений о развитии химической промышленности является верным?
- А) производство полимерных материалов все больше концентрируется в развивающихся странах  
В) в развитых странах после энергетического кризиса были построены крупные нефте-химические комплексы
- Б) четыре главных региона мировой химической промышленности — это Зарубежная Азия, Бразилия, Северная Африка, Северная Америка  
Г) производство органического синтеза продолжает концентрироваться в развитых странах
19. Какая из перечисленных стран является наиболее крупным производителем стали в мире?
- А) Чили  
В) Германия
- Б) ЮАР  
Г) Австралия
20. Для реализации идеи «Поляризованного ландшафта» вокруг Тамбовского промышленного узла необходимо образовать
- А) лесозащитную и рекреационную зону шириной 40-50 км  
В) рекультивировать отработанные площади
- Б) построить систему очистных сооружений  
Г) создать предприятия по переработке отходов и использование их в качестве вторичного сырья